

55 比例・反比例のグラフ

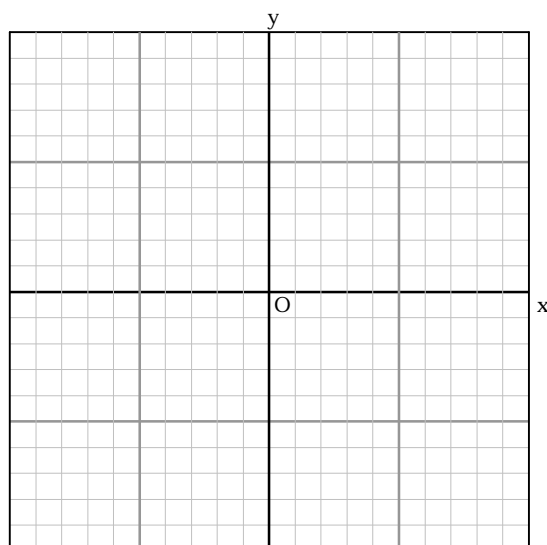
1 次の比例のグラフをかきなさい。

① $y = -5x$

② $y = -\frac{2}{3}x$

③ $y = \frac{2}{5}x$

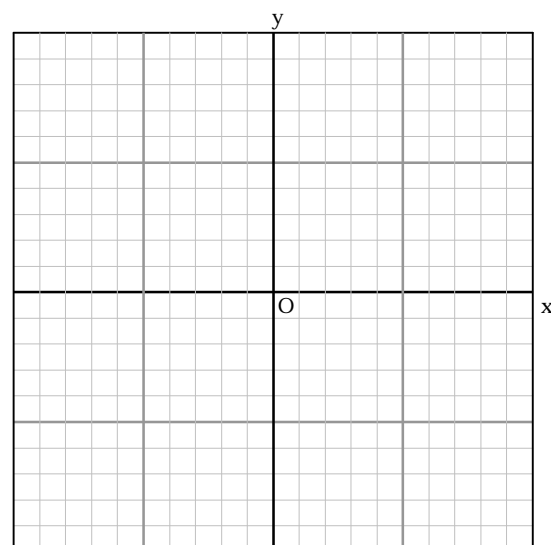
④ $y = 3x$



2 次の反比例のグラフを書きなさい。

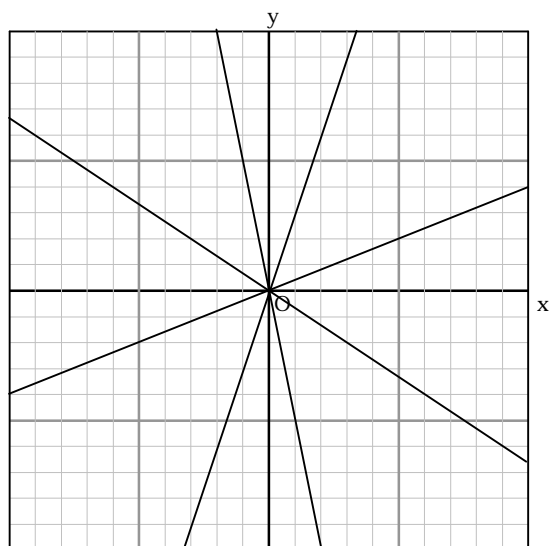
① $y = \frac{6}{x}$

② $y = -\frac{8}{x}$



56 答

1 右図



2 右図

